

Nome: _____ nº ____ Data ____ de Novembro de 2020

1ª A.C.S de Matemática 2ª Classe

1. Compara os números usando os sinais $>$; $<$ ou $=$

12 ___ 19 15 ___ 51 22 ___ 22 27 ___ 23

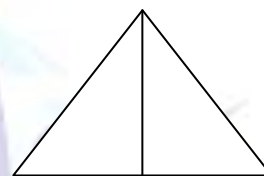
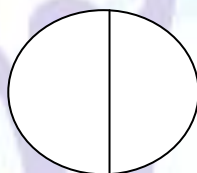
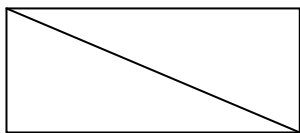
2. Calcula e escreve o resultado de cada operação.

$$\begin{array}{r} 12 \\ +1 \\ \hline \end{array}$$


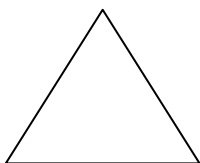
$$\begin{array}{r} 69 \\ +1 \\ \hline \end{array}$$

$$\begin{array}{r} 16 \\ -5 \\ \hline \end{array}$$

3. Pinta a metade de cada figura.



4. Liga cada figura geométrica ao nome correspondente.



• *Circulo ou esfera*

• *Quadrado*

• *Triângulo*

• *rectângulo*